

『埼玉の偉人を巡る』 問題の答えと解説

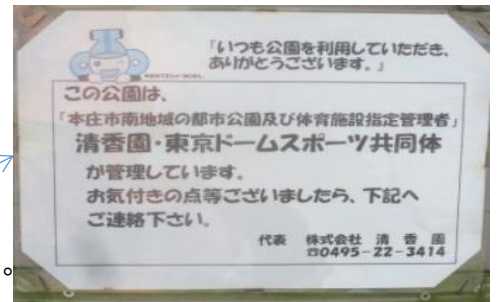
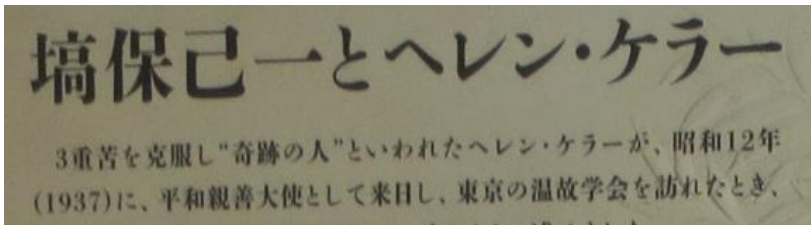
距離(km)		問題	
クラス	ハイクラス	ノーマル	
スタート～OD	5.69	5.7	
スタート～1CP	16.46	16.5	Q-A 祭り屋台
1CP～2CP	2.26	2.3	Q-B 昭和12年(1937)
2CP～3CP	16.41	16.4	Q-C 清香園・東京ドームスポーツ共同体
3CP～4CP	2.70	2.7	Q-D Eiichi in Paris (Eiichiも正解)
4CP～5CP	3.80	3.8	Q-E 1、誠之堂 2、渋沢栄一
5CP～6CP	5.18	5.2	Q-F 上; 創立七十周年記念碑 下; 創業百周年記念碑
6CP～7CP	2.52	2.5	Q-G ソーラーエネルギー
7CP～8CP	13.71	13.7	Q-H ボーナル型プレート・ガーダー
8CP～9CP	2.24	2.2	Q-I 荻野耕次郎
9CP～10CP	20.46	20.5	Q-J 10
10CP～FCP	14.24	14.2	Q-K 遊覧船
			Q-L 畠山重忠墓の覆屋
	99.98	100.0	1 1、車止め 2、7CP
			2 タテ; 21cm ヨコ; 42cm
			3 1、6CP 2、公衆電話ボックス
			4 日本煉瓦製造会社の社章
			5 4CP
			6 1、10CP 2、143 (近似値と5も正解)

コースは4偉人とも結構離れているので途中に関連施設を入れたり道を変えたりと変化を持たせつつもりですがいかがでしたでしょうか。それでも長い区間は場所によってコマ図間が長くて「まだかよ」って言われたのではないのでしょうか。待ちきれなくて曲がってしまったりはしませんでしたですね、ちょっと狙ってはいたのですが。今回は区間距離が短かったので正解者多数でしたが、長い区間では合わないだろうと期待していたのですが…裏切られてしまいました、脱帽です。

コース作成時4偉人目の道のりはあまり楽しめなかったので他のコースをと色々と検討したのですが無く渡し船でゴールにとも思いましたが結局当初のコースにしてみました。お陰で施設の時間の関係もあり渡し船楽しんで頂けなかった様で申し訳なかったです。

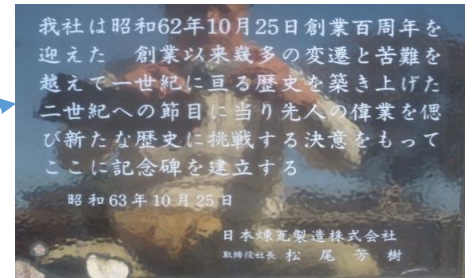
解説 クイズ

- 問題2、3で解答が2つあるところは各0.5点としました。
- A 建物のシャッターに祭りの写真が有り予想出来たと思いますが内部に入ると良く見えましたので解りましたね、ガラスには「祭り屋台」とありました。色々と書かれていましたが「祭り屋台」関連の事が書いてあれば正解です。
- B 内部の「塙保己一とヘレン・ケラー」の説明版に書かれていましたので解ったと思います。




- C 駐車場から見るところに看板がありましたね、そこに書かれていました。
- D ローマ字と言うことで迷われた方が居ましたが「Eiichi in Paris」とすべて書いてほしかったです。ですが、in Parisは英語だって事で「Eiichi」も正解としました。
- E 建物の名前は説明版で解ったと思います、命名者はパンフレットに書かれていました。①誠之堂、②渋沢栄一 です。(各0.5点減点です)

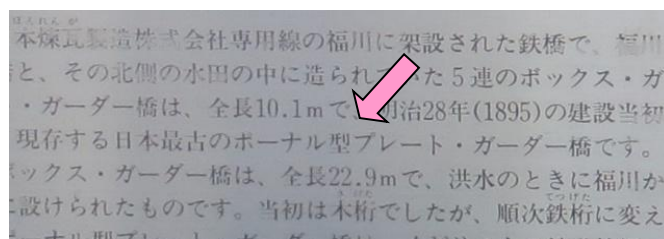

- F 見学して頂ければ近くで読めたので問題は無かったと思いますが…(設問写真上下のふたつのものです) 施設が土日のみの開館なので問題Fは無い方が良かったですね。
 検索ではここで見られました。(http://www.hotetu.net/Brick/Brickstructure/160529nihonrebgaseizou.html)
 上;70周年の方が創立で、下;100周年の方は創業となっていました。間違えましたか。



- G からくり時計の下に説明板がありそこに書かれていました。



- H 公園に入ると正面に橋が見えたと思いますが、線路敷を利用した遊歩道に看板がありました 福川鉄橋の説明板が見つければ問題なかったと思います。
 日本最古の()橋です。の()内を問うていますので答えは「ボーン型プレート・ガーダー」です。

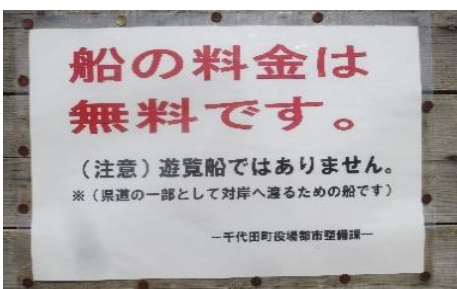


- I 荻野吟子展示室に入ると左手に飾ってありましたのですぐに気が付いたと思います。
 荻野耕次郎 です。

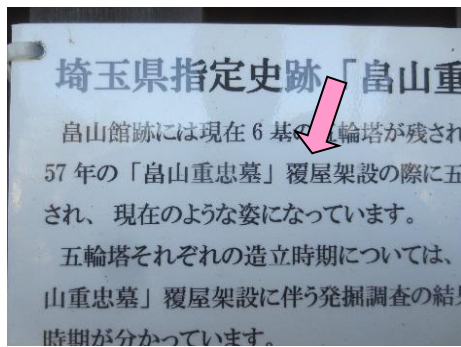
- J 時刻表左右を確認して頂ければすぐに答えが出たと思います。
 6:38、7:35、9:35~16:35 の合計10本です。

月～金		時		土・日・祝日	
(8/13~8/16, 12/30~1/3を除く)				(8/13~8/16, 12/30~1/3を含む)	
54	38	00	6	38	
56	35	10	7	00	35
		30	8	15	50
	35	00	9	35	
	35	10	35		
	35	11	35		
	35	12	35		
	35	13	35		
	35	14	35		
	35	15	35		
	35	16	35		
	45	17	36		
58	18	18	16		
	36	19	00		
	16	20			

- K 渡し船乗船場手摺(柵)に
 いっぱい張り紙がしてあり、その中にありました。
 「遊覧船」ではありません。



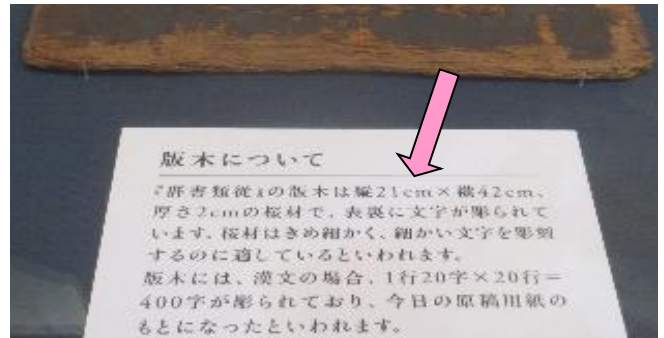
- L 建物を問うています、見学して頂くと建物の格子に説明書が取付けてありました。それによると「畠山重忠墓」覆屋 とありました。墓だけではだめです。



問題3、ヒントはwatasiでした。

- 1 ①7CP近くで線路敷を利用した遊歩道にありました、②車止めですね。(各0.5点減点です)
②については車止め関連の事を書かれていればOKです。

- 2 塙保己一記念館に展示してありました。その説明文に書かれていました。
①縦21cm * ②横42cm でした。(各0.5点減点です)



- 3 ①6CPで見つけました。
②下は公衆電話ボックスでした。(各0.5点減点です)

- 4 これはなかなか解らなかつた?、すぐに解つた?
建物の玄関上と創業記念碑裏にありました、煉瓦にも刻印されていたのですね。日本煉瓦製造会社の社章 でした(Fの検索ページにも記載されていました)。

「小口」面に「日本煉瓦製造会社」の刻印がある煉瓦 (「碓氷第4隧道」出口(西口)付近(ほか))
※刻印は、「平」面に押されているのが普通です。



「日本煉瓦製造会社」
(埼玉県深谷市上敷免)
の門扉にデザインされている社章

- 5 4CPの駐車場周囲にありました、彫刻してあるので目立ちましたね。CPの写真に写っていました。



- 6 ①10CPの駐車場端にありました。(0.5点減点です)
②外のパイプの円周(外周)を問うています、横の直径(パイプの外から外)が $45.5\text{cm} * 3.14 \div 143$ 。
パイプ自体の円周と考えすぎた方が居られましたが全体の外周で143が正解です。
縦や斜めに図った方が居ました、長さが違うようでした。
主催者が実際に布メジャーで外周を測ったら142.8でした。
で、②は
斜め寸法 $45 * 3.14 \div 141$ や縦寸法 $44.5 * 3.14 \div 140$ や近似値、パイプ自体の円周の5も正解としました。
130近辺の数字は不正解としました。(0.5点減点です)

以上です。